


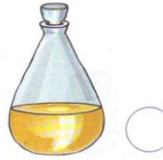
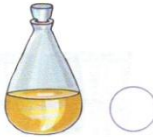
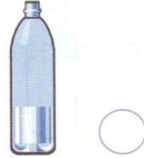
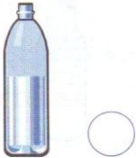
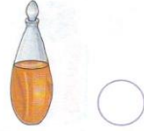
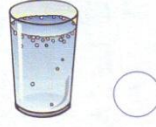
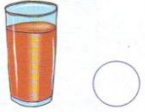
Sıvıları ölçme



en az sıvı



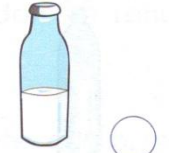

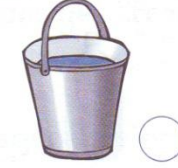




Sıvı miktarı en az olanı işaretleyiniz.



en fazla sıvı



Sıvı miktarı en fazla olanı işaretleyiniz.





Örnek 1 :

Bir şişe süttten 4 bardak süt çıkıyor.
Dört şişe süttten kaç bardak süt çıkar?

Verilenler

Bir şişe süttten 4 bardak süt çıkıyor.

İstenen

Dört şişe süttten kaç bardak süt çıkar?

Çözüm

Bir şişe süttten 4 bardak süt çıktığına göre,
Dört şişe süttten;

.....

.....

.....

.....

.....



Örnek 2 :

Aslı günde 2 bardak, Okan bir
bardak süt içiyor. İkiisi birlikte bir haftada kaç bardak süt
içer?

Verilenler

Aslı bir günde 2 bardak,
Okan bir günde 1 bardak süt içiyor.

İstenen

İkiisi birlikte bir haftada kaç bardak süt içer?

Çözüm

.....

.....

.....

.....

.....